

தமிழ் மூன்றாம் வகுப்பு

காலம் – 2 மணி நேரம்

முதல் பருவம்

மொத்த மதிப்பெண்கள்-60

I. சரியான விடையை எடுத்து எழுதுக.

5x1=5

1. ஊராட்சி மன்ற விளையாட்டுத் ----- போட்டிகள் நடைபெற்றன.
(திடலில்/தரையில்)
2. மரத்தில் சிறுமி ----- ஆடுகிறாள் (பந்து / ஊஞ்சல்)
3. பேரொலி எழுப்பிய விலங்கு ----- (காட்டெருமை / கழுதை)
4. வானில் பறந்து கொண்டிருந்த பறவை ----- (கழுகு / காகம்)
5. ஒலிபெருக்கியில் ----- போட்டிகள் பற்றி அறிவிக்கிறார்கள் (கட்டுரை / விளையாட்டு)

II. பொருத்துக.

5x1=5

1. இருப்பிடம் – பயம்
2. சிற்றுண்டி – வலிமை
3. அச்சம் – வாழிடம்
4. உறுதி – மருந்து
5. ஓளாதம் – காலை உணவு

III. சரியா? தவறா?

5x1=5

1. வண்ணம் + மலர் = வண்ணமலர்
2. முதல் + இடம் = முதல் இடம்
3. அ + பூனை = அப்பூனை
4. விட்டு + கொடுத்து = விட்டுகொடுத்து
5. பள்ளி + பகுதி = பள்ளிப்பகுதி

IV. நிரப்புக

5x1=5

1. அறுவடைக்காலம் = ----- + காலம்
2. அறிவிப்புப் பலகை = அறிவிப்பு + -----
3. காட்டெருமை = ----- + எருமை
4. மலர்த்தொட்டி = மலர் + -----
5. கருமேகங்கள் = ----- + மேகங்கள்

V. முதல் எழுத்தை மாற்றி, புதிய சொல்லை உருவாக்குக

5x1=5

1. ஓட்டம் = -----
2. திடல் = -----
3. போட்டி = -----
4. சொல் = -----
5. கயிறு = -----

VI. சொற்களை இணைத்துத் தொடராக்குக

5x2=10

வண்ணத்துப் பூச்சி	பூக்களின் மேலே	உள்ளது
இலைகளுக்கிடையே	இலையின் மேல்	ஊர்கின்றன
சிவப்பு வண்டுகள்	சிலந்தி வலை	பறக்கின்றது

VII. கீழுள்ள சொற்களை மகர வரிசையில் எழுதுக

5x1=5

மாடு, மீன், மேற்கு, முயல், மிளகு

VIII. ஓரிரு சொற்களில் விடையளி

5x2=10

1. குழந்தைகள் கூடியாடுமிடம் எது?
2. உனக்குப் பிடித்த விளையாட்டுகள் இரண்டினை எழுதுக
3. முயலும், கௌதாரியும் யாரைத் தேடிச் சென்றன?
4. அறிவிப்புப் பலகையில் முதல் நாள் என்ன எழுதி இருந்தது?
5. இளவரசன் யாரை அரசியாகத் தேர்வு செய்தான்?

IX. கதையைத் தொடர்ந்து எழுதுக. தலைப்பைத் தருக.

1x10=10

மணி, மாதவன் இருவரும் நண்பர்கள். அன்று அவர்களுக்குப் பள்ளி விடுமுறை. காய்கறி வாங்க இருவரும் சந்தைக்குச் சென்றனர். வழியில் நாய் ஒன்று பசியுடன் இருந்ததைப் பார்த்தனர். -----

English

BLUE PRINT

Standard - III

S.No.	Sections	Knowledge			Understanding			Application and skills			
		V.S.A.	S.A.	L.A.	V.S.A.	S.A.	L.A.	V.S.A.	S.A.	L.A.	Total
1	<u>Vocabulary</u> a. Finding out the hidden animal b. Identify from the Clues c. Antonyms		5			5 5					5 5 5
2	<u>Prose</u> a. Drawing the signals b. Making list of things c. Comprehension Questions		10			5			6		6 5 10
3	<u>Poetry</u> a. Quote from memory b. Writing 5 pairs of rhyming words		5						5		5 5
4	<u>Grammar</u> a. Degrees of Comparison b. Adjectives								6 3		6 3
5	<u>Composition</u> Listing out the actions					5					5
	TOTAL		20			20			20		60

English

Standard - III

Time : 02.00 Hours

Marks -60

I. Find out the hidden animal or bird in each word (5 Marks)

Bowl

Beard

Ration

Coward

Catch

II Identify the animals from the clues. (5 Marks)

1. I have beautiful horns ----

2. I live in burrows-----

3. I carry my house on my back. -----

4. I live in water. -----

5. I have tusks. -----

III Draw traffic signals for the following. (6 Marks)

1) No U turn

2) No parking

3) No entry

IV Make a list of five things you will buy from the grocery shop (5 Marks)

V Give the opposites of the following words (5 Marks)

noisy, dry, smart, large, fast

VI Fill in the blanks with suitable adjectives from the following (3 Marks)

(long, beautiful, tall)

1.A--- girl

2.A-----pencil

3.A----- boy

VII Give the other degrees of comparison for the following words (6 Marks)

1. Fat--- -----

2. Big----- -----

3. Tall----- -----

VIII Answer the following (10 Marks)

1.Name the four places the butterfly rested on?

2.Which letter of the alphabet is an insect?

3.Mention the three things for which the trees were cut?

4.What is special about leap year?

IX. Quote from memory - : The first four lines of the poem

“Colour Butterfly” (5 Marks)

X. List out the things you would do on Sunday (5 Marks)

XI. Write 5 pairs of rhyming words on your own (5 Marks)

கணக்கு

தொகுத்தறி மதிப்பீடு (SA)

வினாத்தாள் திட்ட வரைவு (Blue Print)

வகுப்பு 3

முதல் பருவம்

பாடத்தலைப்பு	அறிதல் (K)			புரிதல் (U)			பயன்படுத்துதல் (A)			திறன் (S)			மொ
	பு	கு	க	பு	கு	க	பு	கு	க	பு	கு	க	
வடிவங்களும் உருவங்களும் I	2(1)			5(1)							1(3)		8(10)
வடிவங்களும் உருவங்களும் II	1(1)												1(1)
எண்கள்	2(1)			6(1)	2(3)		3(1)	1(3)		1(1)			15(21)
கூட்டல்	1(1)			1(1)	2(3)		2(1)		1(5)			1(5)	8(20)
கழித்தல்				1(1)	1(3)	1(5)			1(5) *			1(5)	5(19)
மொத்தம்	6(6)			13(13)	5(15)	1(5)	5(5)	1(3)	4(10)	1(1)	1(3)	2(10)	37(71)

பு – புறவய வினா

அடைப்புக்குறிக்கு உள்ளே – மதிப்பெண்கள்

கு – குறுவினா

அடைப்புக்குறிக்கு வெளியே – வினாக்களின் எண்ணிக்கை

க – கட்டுரை வினா

* மாற்று வினாக்கள்

கணக்கு

தொகுத்தறி மதிப்பீடு – மாதிரி வினாத்தாள்

வகுப்பு : 3

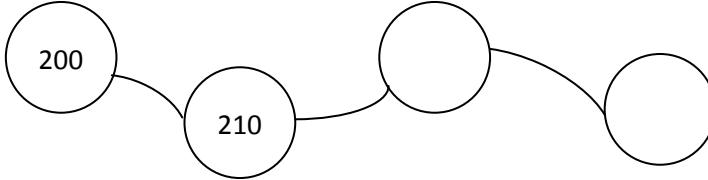
மதிப்பெண்கள்:60

காலம்: 2.00 மணி

I. கோடிட்ட இடங்களை நிரப்புக:

20 x 1 = 20

1. சதுரத்திற்கு _____ முனைப்புள்ளிகள் (4/6)
2. சதுரத்திற்கு _____ பக்கங்கள் (2/4)
3. 254 எண் பெயரை எழுதுக _____
4. 266 என்ற எண்ணில் _____ நூறுகள் _____ பத்துகள் _____ ஒன்றுகள் உள்ளன.
5. $14 + 12 =$ _____
6. வட்டமிட்டுள்ள இலக்கத்தின் இடமதிப்பை எழுதுக.
⑦25 _____
7. ஒற்றை எண்களை நிரப்புக _____ , _____
133, 146, 548, 601
8. எண்களை ஒப்பிட்டுப் பொருத்தமான <, > குறியீடுக.
118 _____ 340
9. $880 - 80 =$ _____
10. 16 ஐ பத்துகளுக்கு முழுமையாக்கினால் ---கிடைக்கும்.
11. விடுபட்ட எண்களை நிரப்புக.
415,416, _____ 419
12. பத்துப் பத்தாகத் தாவி விடுபட்ட வட்டங்களை நிரப்புக.



13. ஓரிலக்க எண்கள், ஈரிலக்க எண்களை விட _____
14. எண்களை ஒப்பிட்டுப் பொருத்தமான <, > குறியீடு
200 _____ 123
15. கூட்டலை நிரப்புக.
_____ + 14 = 20
16. செவ்வகத்தின் மூலைவிட்டங்கள் _____
17. _____ என்ற எண்ணுடன் 1ஐக் கூட்டினால் 100 கிடைக்கும்
18. கூட்டுக:
 $13 +$ _____ $= 22$
19. 96 என்ற எண்ணில் _____ பத்துக்கள் , --- ஒன்றுகள் உள்ளன.
20. 98 என்ற ஈரிலக்க எண்ணை விரித்தெழுதுக _____

II. பொருத்துக.

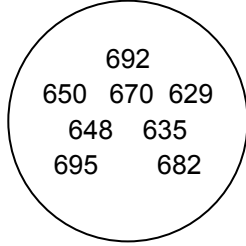
5 x 1 = 5

21. சதுரம் - 3 பக்கங்கள்
22. செவ்வகம் - 4 பக்கங்கள்
23. முக்கோணம் - எதிரெதிர் பக்கங்கள் சமம்
24. வட்டம் - 10
25. 5 + 5 = - சீரான வளைகோட்டினால் ஆன மூடிய வடிவம்

III. ஏதேனும் ஐந்து வினாக்களுக்கு மட்டும் விடையளி

5 x 3 = 15

26. செவ்வக வடிவம் கொண்டு புதிய தளநிரப்பிகளை நிரப்புக.
27. வட்டத்தில் கொடுக்கப்பட்டுள்ள எண்களை ஏறுவரிசையில் எழுதுக.



28. இறங்கு வரிசையில் எழுதுக.
463,448,474,432,493
29. 7, 4 மற்றும் 5 என்ற இலக்கங்களைப் பயன்படுத்தி மூன்றிலக்க மிகப் பெரிய மற்றும் மிகச்சிறிய எண்ணை உருவாக்குக.
மிகப்பெரிய எண் _____
மிகச்சிறிய எண் _____
30. கூட்டுக.
5 4 3
+ 4 2 1

31. கூட்டுக.
2 5 7
+ 1 4 3

32. எண் பெயருக்கேற்ற எண்களை எழுதிக் கூட்டுக.
நூற்று என்பது
நானூற்று அறுபத்து ஐந்து

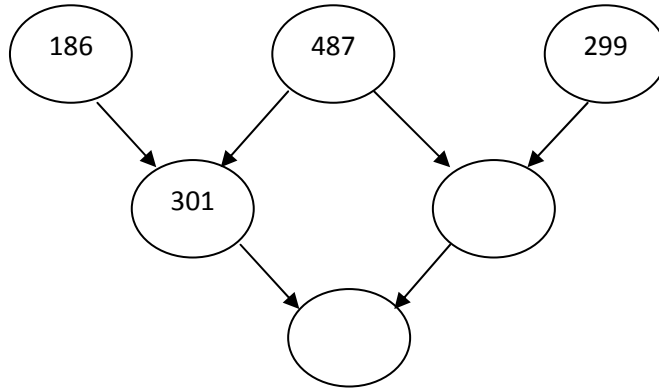
33. கூட்டுக:

$$\begin{array}{r} 339 \\ + 272 \\ \hline \end{array}$$

34. ஒரு தையற்காரர் 125 வெள்ளை பொத்தான்களையும் 165 சிவப்புப் பொத்தான்களையும் வாங்கினார். தையற்காரர் மொத்தம் எத்தனை பொத்தான்களை வாங்கினார் ?

35.
$$\begin{array}{r} 784 \\ - 195 \\ \hline \end{array}$$

36. முதல் வரிசையில் இருந்து கழித்தலைத் தொடங்கவும். கழிக்கப்பட வேண்டிய எண்கள் அம்பு குறியிட்டுக் காட்டப்பட்டுள்ளன. முதல் கணக்கு செய்து காட்டப்பட்டுள்ள கழித்தல் செயலைத் தொடர்ந்து செய்க.



37. பத்துகளுக்கு முழுமையாக்கி இரண்டு எண்கள் கூடுதல் மற்றும் உண்மையான மதிப்பு காண்க.

கூட்டல் விவரம்	முழுமையாக்கிய பின் கூடுதல்	உண்மையான மதிப்பு
13		
15		
கூடுதல்		

38. ஒரு கடைக்காரர் 25 ஆப்பிள்கள் வைத்திருக்கிறார். மேலும் 20 ஆப்பிள்கள் வாங்கினால் அவரிடம் தற்போது இருக்கும் ஆப்பிள்கள் மொத்தம் எத்தனை?

அறிவியல்

திட்ட வரைவு (Blue Print) வகுப்பு 3

பாட எண்	பாடத்தின் பெயர்	அறிதல் (KNOWLEDGE)			புரிதல் (UNDERSTANDING)			பயன்படுத்துதல் (APPLICATION)			திறன் (SKILL)			மொத்த மதிப்பெண்
		O	S	E	O	S	E	O	S	E	O	S	E	
1	வண்ண வண்ண தோட்டம்	2(1)			1(1)	1(3)		2(1)					1(5)	13
2	நம்மைச் சுற்றியுள்ள விலங்குகள்	2(1)	1(3)	1(5)	1(1)			1(1)					1(5)	17
3	தோட்டத்தில் சிறு உயிரினங்கள்	2(1)		1(5)	2(1)			2(1)				1(3)		14
4	வன உலா	1(1)	1(3)		1(1)	1(3)		2(1)		1(5)				15
5	நமக்குள்ளே	2(1)	2(3)		2(1)		1(5)	2(1)						17
மொத்த மதிப்பெண்		9	12	10	7	6	5	9		5		3	10	76

அடைப்புக்குறிக்குள் இருக்கும் எண் மதிப்பெண்ணை குறிக்கும் ,அடைப்பு குறிக்கு வெளியே கொடுக்கப்பட்டுள்ள எண்வினாக்களின் எண்ணிக்கையை குறிக்கும்.

Type of Question	No. of Qns.	No. of Qns.to be answered	Marks for each Qn.	Total Marks
Objective (O)	25	25	1	25
Short Answer(S)	7	5	3	15
Essay (E)	6	4	5	20
Total				60

அறிவியல் முதல் பருவம்

வகுப்பு :-3

மொத்த மதிப்பெண்கள் : 60

காலம்: 2.00 மணி

I. கோட்ட இடத்தை நிரப்புக

5 x1= 5

1. தாவரம் உணவை தண்டில் சேமிக்கும்
2. மீன் சுவாசிக்க உள்ளன
3. உழவனின் நண்பன்
4. மூங்கிலிலிருந்து கிடைக்கும்
5. கை, கால்களை மடக்க உதவுவது

II. பொருத்துக

5 x1= 5

- | | | |
|--------------------|---|--------------------|
| 6. வேப்பிலை | – | விரலிடைச்சவ்வு |
| 7. தவளை | – | சிறப்பு இயங்கு தசை |
| 8. விவசாயின் எதிரி | – | கால்சியம் |
| 9. இதயத்தசை | – | கூட்டிலை |
| 10. பல் | – | வெட்டுக்கிளி |

III. சரியா ? தவறா ? என எழுதுக

5 x1= 5

11. தரைக்கு கீழ் தண்டில் உணவைச் சேமிக்கும் தாவரம் கேரட்
12. பறவையின் எலும்பு இலேசானது.
13. அதிக உயரத்தில் பறக்கும் பூச்சி கரப்பான் பூச்சி
14. ஆண் கொசு நோய்களை பரப்பும்
15. காடுகள் அழிவதால் மண்வளம் பாதுகாக்கப்படும்

IV. பலவுள் தெரிவு

5 x1= 5

16. செடிக்கு தேவையான நீர் மூலம் உறிஞ்சப்படுகிறது
1. மண் 2. தண்டு 3. வேர்
17. நீர்த் தாவரங்களில் மிதப்பதற்கு உதவுகின்றன
1.குட்டையான வேர் 2. தண்டு 3. பூ
18. பூச்சிகளைக் கொத்தித் தின்ன பயன்படுகிறது
1. குட்டையான அலகு 2. கூரிய அலகு 3. வளைந்த அலகு
19. பூச்சிகளே என் உணவு – நான் யார் ?
1.சிலந்தி 2. தேனீ 3. எறும்பு
- 20.தேக்கு மரம் செய்ய பயன்படும்
1. கதவு 2. சமையல் பாத்திரங்கள் 3. புத்தகம்

V. பொருந்தாததைத் தேர்ந்தெடுத்து எழுதுக

5 x1= 5

21. மூங்கில், காகிதம், மருந்து
22. பொம்மை, அலங்காரப்பொருள், உடல் நலம்
23. மண்டை ஓடு, மூளை, கால்
24. கை, காது, நுரையீரல்
25. கோரைப்புல், கண், மூக்கு

VI. ஓரிரு வார்த்தைகளில் விடையளி (எவையேனும் ஐந்து வினாக்களுக்கு மட்டும் விடையளி)

5 x3= 15

26. ஆணிவேருக்கும் சல்லி வேருக்கும் உள்ள வேறுபாடுகளை அட்டவணைப் படுத்துக.
27. பாதுகாப்புத் தகவமைப்பு என்றால் என்ன ?
28. வண்ணத்துப் பூச்சியை வரைந்து வண்ணம் தீட்டுக.
29. காடுகளைப் பாதுகாக்க என்ன செய்ய வேண்டும் ?
30. காடுகளிலிருந்து கிடைக்கும் பொருட்கள் 4 எழுதுக.
31. உரோமத்தின் பணி யாது ?
32. மூட்டின் வகைகள் யாவை ?

VII. விரிவாக விடையளி (எவையேனும் 4 வினாக்களுக்கு மட்டும் விடையளி)

4 x5= 20

33. ஒரு செடியை வரைந்து பாகங்களைக் குறி.
34. மீனின் படம் வரைந்து பாகங்களைக் குறி.
35. தேனீக்களின் பணி என்ன ?
36. தோலின் பணி யாது ?
37. தவளை எவ்வாறு சுவாசிக்கும் ?
38. காடுகள் அழிவதால் என்ன நிகழும் ?

சமூக அறிவில்
வினாத் தாள் வடிவமைப்பு (மூன்றாம் வகுப்பு)

மொத்த மதிப்பெண்கள் (60)

காலம்: 2 மணி நேரம்

வ.எண்	வினா வகை	வினாக்கள்	மதிப்பெண்கள்	மொத்த மதிப்பெண்கள்
1	நிரப்புதல்	5	2	10
2	சரியா ? தவறா ? என எழுதுதல்	5	1	5
3	பொருத்துதல்	5	1	5
4	சரியான விடையைத் தேர்ந்தெடுத்து எழுதுதல்	5	1	5
5	விடையளி	4	5	20
6	வரைந்த படத்தில் வண்ணம் தீட்டுதல்	5	2	10
7	வரைபடம் வரைதல்	1	5	5
மொத்தம்		30		60

சமூக அறிவில்

முதல் பருவத்தோர்வு- மூன்றாம் வகுப்பு

மாதிரி வினாத்தாள்

காலம்: 2 மணி நேரம்

மதிப்பெண்கள்: 60

I கோடிட்ட இடங்களை நிரப்புக

5x2=10

1. உனது வீட்டில் பேசும் மொழி _____
2. குப்பைகளைக் _____ கூடையில் மட்டுமே போட வேண்டும்
3. உனது தந்தையின் பெயர் _____
4. சூரியன் மறையும் திசை _____
5. சாலையில் _____ செல்ல வேண்டும்

II சரியா(✓) தவறா(×) என அடைப்புக் குறிக்குள் குறியிடுக

5x1 = 5

6. அனைவரையும் மதித்தல் வேண்டும் ()
7. பொது இடங்களில் எச்சில் துப்புதல் கூடாது ()
8. விளையாடிய பின்பு கை, கால்களைக் கழுவ வேண்டும் ()
9. வடக்கு திசைக்கு எதிர் திசை மேற்கு திசை ()
10. சாலையில் விளையாடுவது ()

III பொருத்துக

5x1 = 5

11. கடற்கரை - ஊஞ்சல்
12. நகரம் - எச்சரிக்கை விளக்கு
13. காந்தமுள் - மேம்பாலங்கள்
14. வாகனங்கள் - மீனவக் குடும்பம்
15. பூங்கா - வடக்கு

IV சரியான விடையைத் தேர்ந்தெடுத்து எழுதுக

5x1=5

16. செடிகளைப் பராமரிப்பது _____ வேலை.
(காவலாளி, பிறருடைய, என்னுடைய)
17. எனக்குப் பாட்டியிடம் _____ கேட்கப் பிடிக்கும்.
(கதை, காசு, அறிவுரை)
18. உன் வீட்டிற்குக் கடிதங்கள் வந்து சேர _____ தேவை
(மிதிவண்டி, முகவரி, தபால்பெட்டி)
19. சூரியன் உதிக்கும் திசை _____
(தெற்கு, கிழக்கு, மேற்கு)

20. சாலையில் நடக்கும் போது _____ பின்பற்றுதல் வேண்டும்
(சாலைவிதிகளைப், விளையாட்டுவிதிகளைப், பள்ளிவிதிகளைப்)

IV விடையளி

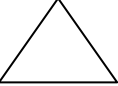
4x5=20

21. நான்கு அடிப்படை திசைகள் எவை? உன் பள்ளியின் இருப்பிடத்தை திசைகளுடன் விவரி?
22. சாலையைக் குறுக்கே கடக்கும் பொழுது கவனிக்க வேண்டிய விதிகள் யாவை?
23. பொது இடங்களில் நாம் என்னென்ன விதிமுறைகளைப் பின்பற்றுதல் வேண்டும்?
24. நகரங்களில் சாலையின் குறுக்கே வெள்ளைக்கோடுகள் ஏன் போடப்பட்டு உள்ளன?


V படம் வரைந்து வண்ணம் தீட்டுக

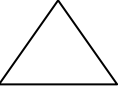
5x2= 10

25.  - இடப்பக்க வளைவு

26.  - வேகத்தடை

27.  - பள்ளம் உள்ளது

28.  - வலப்பக்க வளைவு

29.  - இருப்புப் பாதை

VI கீழ்க் கண்ட குறிப்பிற்கேற்ப வரைபடம் வரைக

1x5=5

30. உன் பள்ளியை வரைபடமாக வரைக.